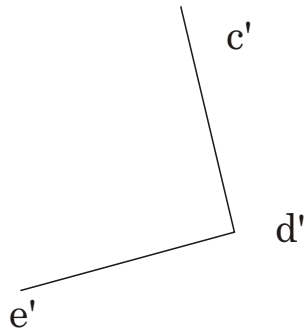
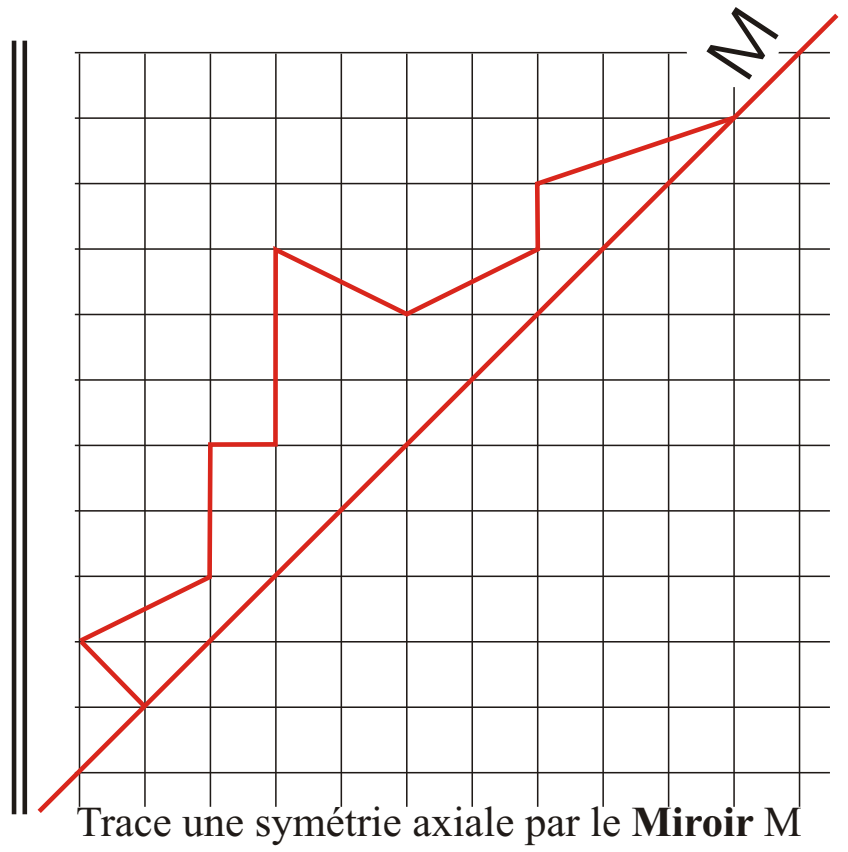
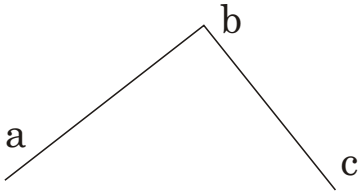




b) les déplacements



Dessine les trois formes
ABCDE F
A'B'C'...
A''B''C'' ... obtenues par translations



Le coin Opérations



Le coin Mesures

A) les mesures de temps

4 heures 10' → En minutes _____

420 minutes → En heures _____

5 heures → En secondes _____

370 minutes → En heures et minutes _____

B) Problème

Ce match de foot débute à 19h10 au stade de Tourbillon.

La pause dure 15 minutes.

Les joueurs ont joué deux mi-temps de 45 minutes ainsi que 7 minutes d'arrêt de jeu.

A quelle heure se terminera le match?