


# Examen de math 6P

Nom et prénom: .....

---

Le coin OP



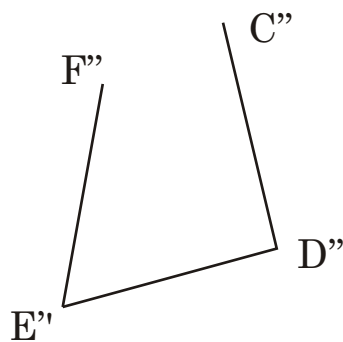
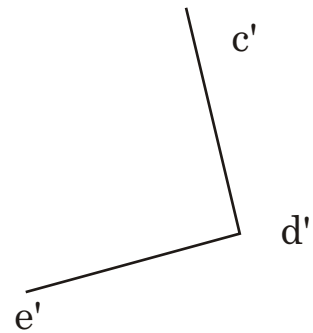
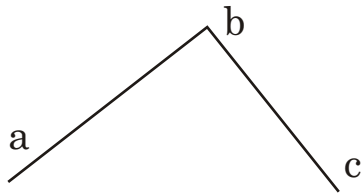
Dessine les trois formes

ABCDE F

A'B'C'...


A''B''C'' ... obtenues par translations

Le coin géométrie



## Le coin mesures, les angles

Dessine un angle de 220 degrés ABC



## Le coin mesures, les poids

Si 1 kg de viande de poulet coûte 35 francs,

Quel est le prix de

100g

300g

1 tonne

250g



Tes recherches...

Tes quatre réponses avec une phrase à chaque fois

.....

.....


.....

.....

## Le coin mesures, divers

### Indique les unités

1. Profondeur d'une fosse de plongeon 3,50.....
2. Longueur d'une table de ping-pong 2740.....
3. Hauteur de l'anneau du panier de Basket 305.....
4. Un litre correspond à 10.....
5. Profondeur maximale du lac Léman 310.....
6. Faire du 75 km à l'heure, c'est rouler en une heure ..... M



## Le coin mesures, divers 2

### Trace l'intrus

- |              |        |         |
|--------------|--------|---------|
| A) 1,2m      | 12cm   | 1200mm  |
| B) 32mm      | 320cm  | 3,2m    |
| C) 4,4kg     | 44000g | 44hg    |
| D) 12 tonnes | 1200kg | 12000kg |
| E) 2,5l      | 250cl  | 250ml   |

Tes recherches...