

Pomme, pomme..

Que coûtent les pommes... ?

Si une pomme vaut 0,70 franc

Que coûtent 5 pommes ?

6 pommes ?

12 pommes ?

20 pommes ?

40 pommes ?

15 pommes ?



Chocolat... miam !

Que coûtent les gâteaux ?

Si un gâteau vaut 12 francs

Que coûtent 6 gâteaux ?

7 gâteaux ?

13 gâteaux ?

20 gâteaux ?

40 gâteaux ?

15 gâteaux ?



.....

Crème glacée

Que coûtent les crèmes glacées... ?

Si une glace vaut 2,50 francs

Que coûtent 5 glaces ?

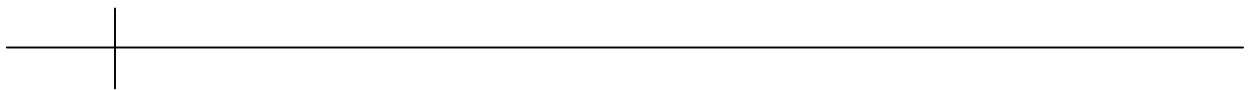

6 glaces ?

12 glaces ?

20 glaces?

40 glaces ?

15 glaces?



Pomme, pomme, pomme, pomme 7H

Que coûte 1 kilo de pommes, si... ?

(Passe par 100 grammes, le plus souvent).

100g de Gravenstein valent 0.40

100g de Gala valent 0,60

12kgs de Granni Smith valent 36.-

5 kgs de Elstar valent 25 francs

500 grammes de Golden valent 3.30 francs

7 kilos de Golden valent 14 francs

1000g de pommes vertes valent 6.-

3kilos de pommes rouges valent 9.-



Que coûtent les entrées au cinéma ?

Si une entrée vaut 12,5 francs

Que coûtent 5 entrées ?

6 entrées ?

12 entrées ?

20 entrées ?

40 entrées ?

15 entrées ?



Dessine les tableaux de correspondances

Place ce que tu sais à l'entrée

Que coûtent les DVDs?

Si un DVD vaut 15 francs

Que coûtent 5 DVDs ?

6 DVDs ?

9 DVDs ?

10 DVDs ?

12 DVDs ?

25 DVDs ?

20 DVDs ?

40 DVDs ?

15 DVDs ?



Dessine les tableaux de correspondances

Place ce que tu sais à l'entrée

Que coûtent les branches de chocolat ?

Si une branche vaut 1 franc 20

Que coûtent 5 branches ?

6 branches ?

9 branches ?

10 branches ?

12 branches ?

25 branches ?

20 branches ?

40 branches ?

15 branches ?



Dessine les tableaux de correspondances

Place ce que tu sais à l'entrée

Que coûtent les Smartphones ?

Si un Iphone 6S vaut 790 francs

Que coûtent 5 téléphones ?

6 ?

10 ?

10 téléphones ?

12 téléphones ?

20 téléphones ?

Si il y a un rabais de 10%



Dessine les tableaux de correspondances

Place ce que tu sais à l'entrée

Je marche, je fais du vélo, je conduis ma « Deuch »



Je fais du 5 kilomètres à l'heure...

Combien de kilomètres en ...

10 heures	3 jours de 12 heures de marche
5 heures	20 heures
30 jours de 12 heures de marche	



Je fais du 15 kilomètres à l'heure...

Combien de kilomètres en ...

10 heures	3 jours de 12 heures de route, 10 heures par jour.
5 heures	20 heures
30 jours de 12 heures de route, 10 heures par jour.	

Que coûtent les branches de chocolat ?

Si une branche vaut 80 centimes

Que coûtent 5 branches ?

6 branches ?

9 branches ?

10 branches ?

12 branches ?

25 branches ?

20 branches ?

40 branches ?

15 branches ?



Dessine les tableaux de correspondances

Place ce que tu sais à l'entrée

Pomme, pomme..

Que coûte 1 kilo... ?

Passe par 100 grammes, le plus souvent.

100g de Gravenstein valent 0.40

100g de Gala valent 0,60

250g de Granni Smith valent 2.20


2,5 kgs de Elstar valent 10 francs

500 grammes de Golden valent 3.30 francs

3.5 kilos de Golden valent 14 francs

750g de pommes vertes valent 6.-

450g de pommes rouges valent 9.-



Pomme, pomme..

Que coûte 1 kilo... ?

Passe par 100 grammes, le plus souvent.

100g de Gravenstein valent 0,70

200g de Gala valent 0,50

350g de Granni Smith valent 1,40 (par 50)

450g de Elstar valent 1,80 (par 50)

500 grammes de Golden valent 3 francs

3 kilos de Golden valent 15 francs



Pomme, pomme 3..

Que coûte 1 kilo... ?

Passe par 100 grammes, le plus souvent.

200g de Gravenstein valent 0,60

400g de Gala valent 4.- (rebond à 100g)

750g de Granni Smith valent 6.60 (rebond à 250g)

500g de Elstar valent 2.50

2kgs 500 de Golden valent 10 francs (rebond à 5 kgs)

4kgs 500 de Canada valent 9 francs



Two horizontal lines with a vertical tick mark on the left. Each line has a rectangular box on the right side for writing.

Four horizontal lines, each with a vertical tick mark on the left and a rectangular box on the right side for writing.

Pomme, pomme 3 Test formatif

Que coûte 1 kilo... ?

Passe par 100 grammes, le plus souvent.

200g de Gravenstein valent 0,80

400g de Gala valent 8.- (rebond à 100g)

750g de Granni Smith valent 9.- (rebond à 250g)

500g de Elstar valent 3.60

2kgs 500 de Golden valent 7.50.- francs (rebond à 5 kgs)

4kgs 500 de Canada valent 18 francs



Two horizontal lines for writing, each with a vertical tick mark on the left and a rectangular box on the right.

Four horizontal lines for writing, each with a vertical tick mark on the left and a rectangular box on the right.

Pomme, pomme 4..

Que coûte 1 kilo... ?

Passe par 100 grammes, le plus souvent.

100g de Gravenstein valent 0,40

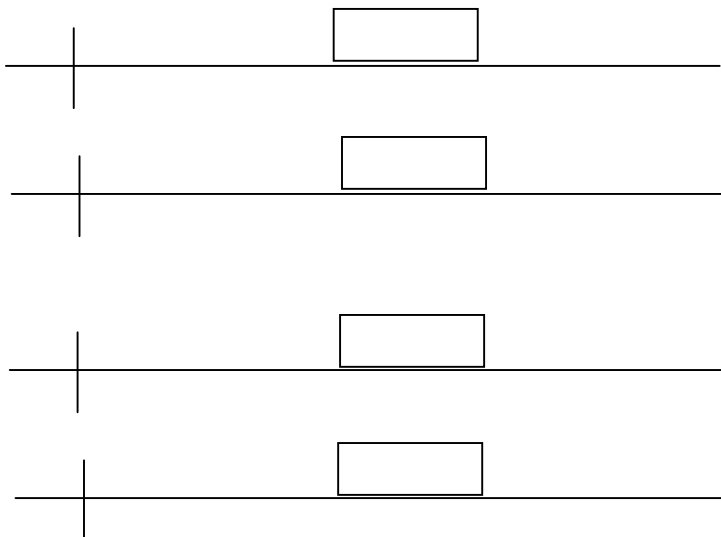
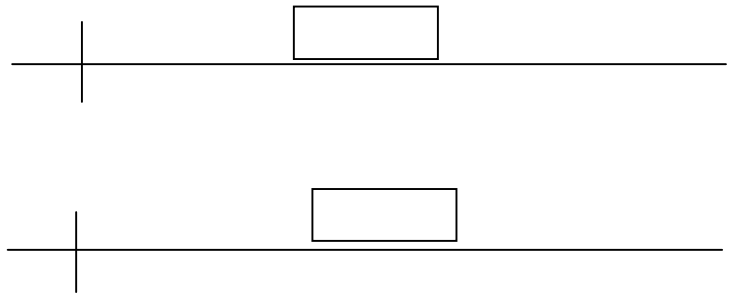
200g de Gala valent 1,60

2,5kgs de Granni Smith valent 10 francs

750g de Elstar valent 2.40 (rebond à 250g)

2kgs 500 de Golden valent 10 francs (rebond à 5kgs)

3kgs 500 de Canada valent 7. francs



Pomme, pomme..

Que coûte 1 kilo... ?

Passe par 100 grammes, le plus souvent.

100g de Gravenstein valent 0,70

200g de Gala valent 0,50

350g de Granni Smith valent 1,40

450g de Elstar valent 1,80

500 grammes de Golden valent 3 francs

3 kilos de Golden valent 15 francs



Fruits... Ah ! que c'est bon

Que coûte 1 kilo... ?

Passe par 100 grammes, le plus souvent.

100g de kiwis valent 2,50.-

200g de poires valent 0,50

350g de William valent 7.-

450g de prunes valent 9.-

500 grammes mangues valent 3,25 francs

3 kilos de cerises valent 12,60 francs



Comment rebondir ?

Pour arriver à 1kg

Rebond de la balle de tennis



400g
600g
250g
450g
850g
1200g
900g
300g
4,5kgs
7,5kgs
1,5kgs
12,5kgs

Que coûte 1 kilo... ?

Passer par 100 grammes ou 50 . le plus souvent.

200g de Gruyère valent 5,4 francs


350g d'Emmental coûtent 14.- (rebond à 50g)

450g de Raclette valent 9,90 (idem)

750g de Bagnes valent 15.- (rebond à 250g)

3,5kgs de Gruyère coûtent 70.-

2,5kgs d'Emmental valent 55.-



.....
.....
.....

Comment rebondir feuille 2 ?

Pour arriver à 1kg

Rebond de la balle de tennis



200g
50g
250g
25g
750g
1500g
800g
75g
5,5kgs
2,5kgs
6,5kgs
10,5kgs

Que coûte 1 kilo... ?

Passer par 100 grammes ou 50 . le plus souvent.

200g de Gruyère valent 4.30 francs

250g d'Emmental coûtent 5.50 francs

350g de Raclette valent 7,70 (rebond à 50g)

750g de Bagnes valent 15,30.- (rebond à 250g)

2,5kgs de Gruyère coûtent 50.-

1,5kgs d'Emmental valent 33.-



.....
.....
.....

Comment rebondir feuille 3 ?

Pour arriver à 1kg

Rebond de la balle de tennis



25g
50g
250g
75g
750g
2500g
900g
45g
7,5kgs
1,5kgs
4,5kgs
22,5kgs

Que coûte 1 kilo... ?

Passer par 100 grammes ou 50 . le plus souvent.

150g de Gruyère valent 3,30 francs

250g d'Emmental coûtent 7,20 francs

450g de Raclette valent 9,90 (rebond à 50g)

1250g de Bagnes valent 25,50.- (rebond à 250g)

4,5kgs de Gruyère coûtent 90.-

2,5kgs d'Emmental valent 60.-



Que coûte 1 kilo... ?

Choisis 5 produits alimentaires dont vous connaissez plus ou moins les prix.

- 1 qui coûte au kilo.....
- 2 qui coûte au kilo.....
- 3 qui coûte au kilo.....
- 4 qui coûte au kilo.....
- 5 qui coûte au kilo.....

Prépare maintenant des problèmes pour un autre groupe

- Produit 1 Que coûte 100 grammes ?
- Produit 2 Que coûte 200 grammes ?
- Produit 3 Que coûte 250 grammes ?
- Produit 4 Que coûte 1 tonne ?
- Produit 5 Que coûte 12 kilogrammes ?

